








Könnun í peningaþjálfun

Spurningar

1. Hvaða peningur er rauður? _____
2. Hvaða peningur er fjólublár ? _____
3. Hvort er hægt að kaupa meira fyrir 50 krónur eða 100 krónur ? _____
4. Hvort er hægt að kaupa meira fyrir 1000 krónur eða 500 krónur ? _____
5. Ef ég á 500 krónur get ég þá keypt brauð sem að kostar 150 krónur? _____
6. Ef ég á 100 krónur get ég þá keypt mjólk sem að kostar 120 krónur ? _____

Leggið saman

1.  = ___ ___ krónur
2.  = ___ ___ krónur
3.  = ___ ___ krónur
4.  = ___ ___ krónur
5.  = ___ ___ krónur
6.  = ___ ___ krónur
7.  = ___ ___ krónur

8.  +  +  = _ _ _ krónur

9.  +  = _ _ _ _ krónur



10.  +  = _ _ _ _ krónur

11.  +  = _ _ _ _ krónur

Dragið frá

1.  -  = _ _ krónur

2.  -  = _ _ krónur

3.  -  = _ krónur

4.  -  = _ krónur

5.  -  = _ _ _ krónur

6.  -  = _ _ _ _ krónur

7.  -  = _ _ _ _ krónur