




Vallaskóli 2007

© Kristín Björk Jóhannsdóttir



Fúsi og sendibréfin



Geti lesið tveggja/þriggja stafa tölur
Geti talið saman ákveðna upphæð
Geti bent á dýrasta/óþýrasta hlutinn
Geti mælt með reglustíku, málbandi





Fúsi er sæll og glaður.



Hann er að fara á pósthúsið.



Fúsi er að senda bréf til pennavinar.



Pennavinur hans á heima í Afríku.



Bréfið **20 gr.** og þá **150 kr.** að senda



það til Afríku.



Fúsi er með **500 kr.** í veskinu sínu.

Hann borgar með **500 kr.**



Fúsi fær til baka **350 kr.**

Hann telur peningana.



Núna getur Fúsi límt frímerkið á bréfið.



Fúsi setur bréfið í póstkassann og



heldur heim á leið.



Fúsi er að fara með bréf í póst.



45 50 55 60 65 70 75



45 50 55 60 65 70 75



45 50 55 60 65 70 75



45 50 55 60 65 70 75



70 75 80 85 90 95 100

Gerðu hring utan um upphæðina sem hann á að borga.




45 50 55 60 65 70 75



45 50 55 60 65 70 75




Fúsi er að fara með bréf í póst.




45 50 55 60 65 70 75




45 50 55 60 65 70 75



100 125 145 165 185





45 50 55 60 65 70 75




70 75 80 85 90 95 100

Gerðu hring utan um upphæðina sem hann á að borga.




100 150 200 250 300



45 50 55 60 65 70 75



Fúsi er með 6 bréf til vina.
Hvað kostar að senda bréfin?





Fúsi er með 6 bréf til vina.
Hvað kostar að senda bréfin?
Skrifaðu upphæðina.

P H T E



--	--	--	--

P H T E

--	--	--	--

P H T E

--	--	--	--



Hvað er dýrast/óðýrast?
Skrifaðu í hringinn.

P H T E

--	--	--	--

P H T E

--	--	--	--

P H T E

--	--	--	--