

Markmið:  
Skrafa tölur í talnaröð  
Telja og þekkja tölustafi  
Samlagning  
Frádráttur  
Þekkja peninga  
hugtök

© Setrið  
Sunnulækjarskóla  
2015

# Víkingar

## Stærðfræði 1

Nafn:

---



# Talnalína

1 2 3 4 5 6 7 8 9 10 11 12 13 14 15 16 17 18 19 20 21 22 23 24 25 26 27 28 29 30

2	
---	--

4	
---	--

6	
---	--

8	
---	--

10	
----	--

12	
----	--

14	
----	--

16	
----	--

18	
----	--

20	
----	--

22	
----	--

24	
----	--

26	
----	--

28	
----	--

30	
----	--

32	
----	--



# Talnalína



1 2 3 4 5 6 7 8 9 10 11 12 13 14 15 16 17 18 19 20 21 22 23 24 25 26 27 28 29 30

1	
---	--

3	
---	--

5	
---	--

7	
---	--

9	
---	--

11	
----	--

13	
----	--

15	
----	--

17	
----	--

19	
----	--

21	
----	--

23	
----	--

25	
----	--

27	
----	--

29	
----	--

31	
----	--





# Talnalína

1 2 3 4 5 6 7 8 9 10 11 12 13 14 15 16 17 18 19 20 21 22 23 24 25 26 27 28 29 30

Skrifaðu næstu tölur 

5				
---	--	--	--	--

10				
----	--	--	--	--

15				
----	--	--	--	--

20				
----	--	--	--	--

25				
----	--	--	--	--

30				
----	--	--	--	--



Litaðu kassann með **hærrí** tölu







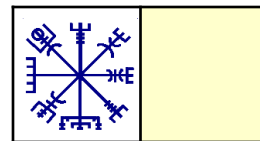
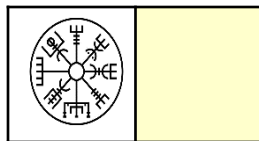


5	10
15	10
15	20
25	20
25	30



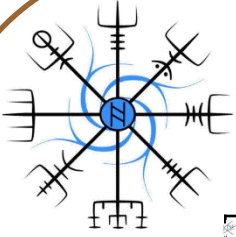
# Talnalina

1 2 3 4 5 6 7 8 9 10 11 12 13 14 15 16 17 18 19 20 21 22 23 24 25

	5																							
	10																							
	15																							
	20																							



# Fylltu inn í talnatöfluna











1				
	7			10
			14	
		18		
				25
26				
	32			















Teldu hlutina og skrifaðu fjöldan











Teldu hlutina og skrifaðu fjöldan



# Teldu peningana og skrifaðu upphæðina





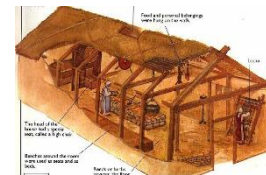
Leggja saman og skrifa svarið í gula reitinn.



$\begin{array}{r} 5 \\ + 1 \\ \hline \end{array}$	$\begin{array}{r} 5 \\ + 2 \\ \hline \end{array}$	$\begin{array}{r} 5 \\ + 3 \\ \hline \end{array}$	$\begin{array}{r} 5 \\ + 4 \\ \hline \end{array}$
=	=	=	=
$\begin{array}{r} 10 \\ + 5 \\ \hline \end{array}$	$\begin{array}{r} 10 \\ + 6 \\ \hline \end{array}$	$\begin{array}{r} 10 \\ + 7 \\ \hline \end{array}$	$\begin{array}{r} 10 \\ + 8 \\ \hline \end{array}$
=	=	=	=



Leggja saman og skrifa svarið í gula reitinn.



$15$	$15$	$15$	$15$
$+ 1$	$+ 2$	$+ 3$	$+ 4$
=	=	=	=
$20$	$20$	$20$	$20$
$+ 5$	$+ 6$	$+ 7$	$+ 8$
=	=	=	=



Leggja saman og skrifa svarið í gula reitinn.



25 + 1	25 + 2	25 + 3	25 + 4
=	=	=	=
30 + 5	30 + 6	30 + 7	30 + 8
=	=	=	=



Draga frá og skrifa svarið í fjólubláa reitinn.



$\begin{array}{r} 5 \\ - 1 \\ \hline \end{array}$	$\begin{array}{r} 5 \\ - 2 \\ \hline \end{array}$	$\begin{array}{r} 5 \\ - 3 \\ \hline \end{array}$	$\begin{array}{r} 5 \\ - 4 \\ \hline \end{array}$
$\begin{array}{r} 10 \\ - 1 \\ \hline \end{array}$	$\begin{array}{r} 10 \\ - 2 \\ \hline \end{array}$	$\begin{array}{r} 10 \\ - 3 \\ \hline \end{array}$	$\begin{array}{r} 10 \\ - 4 \\ \hline \end{array}$



Draga frá og skrifa svarið í fjólubláa reitinn.



$\begin{array}{r} 15 \\ - 1 \\ \hline \end{array}$	$\begin{array}{r} 15 \\ - 2 \\ \hline \end{array}$	$\begin{array}{r} 15 \\ - 3 \\ \hline \end{array}$	$\begin{array}{r} 15 \\ - 4 \\ \hline \end{array}$
=	=	=	=
$\begin{array}{r} 20 \\ - 5 \\ \hline \end{array}$	$\begin{array}{r} 20 \\ - 6 \\ \hline \end{array}$	$\begin{array}{r} 20 \\ - 7 \\ \hline \end{array}$	$\begin{array}{r} 20 \\ - 8 \\ \hline \end{array}$
=	=	=	=





Draga frá og skrifa svarið í fjólubláa reitinn.











$\begin{array}{r} 25 \\ - 1 \\ \hline \end{array}$	$\begin{array}{r} 25 \\ - 2 \\ \hline \end{array}$	$\begin{array}{r} 25 \\ - 3 \\ \hline \end{array}$	$\begin{array}{r} 25 \\ - 4 \\ \hline \end{array}$
=	=	=	=
$\begin{array}{r} 30 \\ - 5 \\ \hline \end{array}$	$\begin{array}{r} 30 \\ - 6 \\ \hline \end{array}$	$\begin{array}{r} 30 \\ - 7 \\ \hline \end{array}$	$\begin{array}{r} 30 \\ - 8 \\ \hline \end{array}$
=	=	=	=



# Teldu peningana og skrifaðu upphæðina






Hvað kostar þetta?



75 85 95 105 115 125



155 165 175 185 195



100 125 145 165 185




100 150 200 250 300



100 150 200 250 300

Gerðu hring  
utan um upphæðina  
sem þú þarft að borga.



100 150 200 250 300



400 410 420 430 440





# Hugtök



**Pungt** og létt

**stórt** og lítið

**breitt** og mjótt


**þykkt** og þunnt



Litaðu það sem er **þyngra**.



Litaðu það sem er **stærra**.



Litaðu það sem er **breiðara**.



Litaðu það sem er **þykkara**.





# Hugtök



Pungt og **létt**

stórt og **lítið**

breitt og **mjótt**

þykkt og **þunnt**



Litaðu það sem er **léttara**.



Litaðu það sem er **minna**.



Litaðu það sem er **mjórra**.



Litaðu það sem er **þynnra**.

